



Nacionalni centar
za vanjsko vrednovanje
obrazovanja

Identifikacijska
naljepnica

PAŽLJIVO NALIJEPI TI

PIG

POLITIKA I GOSPODARSTVO

PIG D-S044

PIG.44.HR.R.K1.20



45643



12

OPĆE UPUTE

Pozorno pročitajte sve upute i slijedite ih.

Ne okrećite stranicu i ne rješavajte zadatke dok to ne odobri dežurni nastavnik.

Nalijepite identifikacijske naljepnice na sve ispitne materijale koje ste dobili u sigurnosnoj vrećici.

Ispit traje **90** minuta.

Ispred svake skupine zadataka uputa je za rješavanje. Pozorno je pročitajte.

Upotrebljavajte isključivo kemijsku olovku kojom se piše plavom ili crnom bojom.

Pišite čitko. Nečitki odgovori bodovat će se s nula (0) bodova.

Ako pogriješite u pisanju, pogreške stavite u zagrade, precrtajte ih i stavite skraćeni potpis. **Zabranjeno je potpisati se punim imenom i prezimenom.**

Kada riješite zadatke, provjerite odgovore.

Želimo Vam mnogo uspjeha!

Ova ispitna knjižica ima 20 stranica, od toga 2 prazne.

Ako ste pogriješili u pisanju odgovora, ispravite ovako:

a) zadatak zatvorenoga tipa

Točno



Ispravak pogrešnog unosa



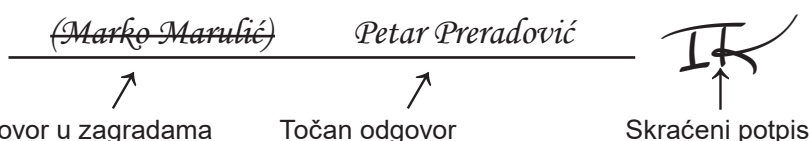
Pogrešno



Prepisan točan odgovor

Skraćeni potpis

b) zadatak otvorenoga tipa



PIG D-S044



99

Politika i gospodarstvo

I. Zadatci višestrukoga izbora

U sljedećim zadatcima od više ponuđenih odgovora samo je **jedan** točan.
Točne odgovore morate označiti znakom X na listu za odgovore.

1. Koji je od navedenih filozofa zastupao ideju da je jedina ispravna politika ona koja slijedi Božje zapovijedi?

- A. Aristotel
- B. Marko Tulije Ciceron
- C. Toma Akvinski

- A.
- B.
- C.

2. Kojoj vrsti organizacija pripada *Greenpeace*, organizacija kojoj je cilj očuvanje prirode na planetu Zemlji, a financira se donacijama?

- A. vladinim organizacijama
- B. nacionalnim nevladinim organizacijama
- C. međudržavnim nevladinim organizacijama

- A.
- B.
- C.

3. Za vrijeme predizborne kampanje vladajući lokalni dužnosnici otvaraju novu kinodvoranu u gradu. Kako se naziva taj čin lokalne vlasti?

- A. političko djelovanje
- B. politička socijalizacija
- C. kulturna manifestacija

- A.
- B.
- C.

4. Kojoj ideološkoj orijentaciji pripada politička stranka koja se zalaže za temeljne i žurne promjene političkoga sustava revolucionarnim putem radi postizanja socijalne jednakosti stanovništva?

- A. lijevoj
- B. desnoj
- C. centru


- A.
- B.
- C.

PIG D-S044



01

Politika i gospodarstvo

<p>5. Građani su potpisivanjem peticije nakon koje bi se proveo referendum pokrenuli postupak promjene ustava. Kako se naziva tip demokracije u okviru kojega građani mogu tako politički djelovati?</p> <p>A. posredna demokracija B. neposredna demokracija C. liberalna demokracija</p>	<p>A. <input type="checkbox"/></p> <p>B. <input type="checkbox"/></p> <p>C. <input type="checkbox"/></p>
<p>6. Koji je od navedenih političkih subjekata nositelj suvereniteta u polupredsjedničkoj republici?</p> <p>A. cijeli narod B. jedna osoba C. jedan društveni sloj</p>	<p>A. <input type="checkbox"/></p> <p>B. <input type="checkbox"/></p> <p>C. <input type="checkbox"/></p>
<p>7. Koju od navedenih ovlasti ima parlament?</p> <p>A. Imenuje vojne zapovjednike. B. Objavljuje rat i zaključuje mir. C. Odlučuje o ratu i miru.</p>	<p>A. <input type="checkbox"/></p> <p>B. <input type="checkbox"/></p> <p>C. <input type="checkbox"/></p>
<p>8. Kojim su građanima u liberalno-demokratskome političkom poretku ustavom zajamčeni sloboda i zaštita njihovih prava?</p> <p>A. svakomu pojedincu B. samo nacionalnim manjinama C. samo pripadnicima nacionalne većine</p>	<p>A. <input type="checkbox"/></p> <p>B. <input type="checkbox"/></p> <p>C. <input type="checkbox"/></p>
PIG D-S044	 01

Politika i gospodarstvo

9. Na slobodnim višestranačkim parlamentarnim izborima tajnim glasovanjem sudjelovali su u jednome selu samo državljani stariji od 80 godina jer su se svi ostali radno aktivni stanovnici iselili. Kako se naziva vrsta izbora iz opisanoga primjera?

- A. nekompetitivni izbori
- B. kompetitivni izbori
- C. semikompetitivni izbori

A.	<input type="checkbox"/>
B.	<input type="checkbox"/>
C.	<input type="checkbox"/>

10. Za vrijeme aktualnoga sata u Hrvatskome saboru zastupnici traže dodatna pojašnjenja o mogućemu sukobu interesa ministra financija. Prema Ustavu Republike Hrvatske, koliko je najmanje zastupnika potrebno za podnošenje interpelacije o sukobu interesa ministra u Vladi Republike Hrvatske?

- A. 1/10 zastupnika
- B. 1/5 zastupnika
- C. 1/3 zastupnika

A.	<input type="checkbox"/>
B.	<input type="checkbox"/>
C.	<input type="checkbox"/>



Politika i gospodarstvo

11. Novinari objavljuju napise o koruptivnim djelima saborskoga zastupnika, što je već prijavljeno Uredu za suzbijanje korupcije i organiziranoga kriminaliteta. Koje državno tijelo odlučuje o ukidanju imuniteta saborskomu zastupniku prije kaznenoga progona?

- A. Državno odvjetništvo
- B. Hrvatski sabor
- C. Ustavni sud Republike Hrvatske

- A.
- B.
- C.

12. Rukovoditelj javnoga poduzeća koristi se svojim položajem i omogućuje rođakinji pranje voznoga parka njezine prijevozničke tvrtke na račun javnoga poduzeća, a ona mu za to uplaćuje dogovoreni iznos na privatni račun. Koje je državno tijelo dužno postupati protiv počinitelja iz opisanoga primjera?

- A. Porezna uprava
- B. Državno odvjetništvo
- C. Državno sudbeno vijeće

- A.
- B.
- C.



Politika i gospodarstvo

<p>13. Ustavni sud Republike Hrvatske utvrdio je da Hrvatski sabor nije donio propis o financiranju izborne promidžbe političkih stranaka, što onemogućuje izvršenje odredaba Ustava Republike Hrvatske. Koga prema Ustavu Republike Hrvatske Ustavni sud treba obavijestiti o ovome propustu Hrvatskoga sabora?</p> <p>A. Vladu Republike Hrvatske B. Predsjednika Republike Hrvatske C. Ured za suzbijanje korupcije i organiziranoga kriminaliteta</p>	<p>A. <input type="checkbox"/> B. <input type="checkbox"/> C. <input type="checkbox"/></p>
<p>14. Kojom većinom prema Ustavu Republike Hrvatske Hrvatski sabor odlučuje hoće li pristupiti promjeni Ustava Republike Hrvatske?</p> <p>A. običnom većinom glasova zastupnika B. većinom glasova svih zastupnika C. dvotrećinskom većinom glasova svih zastupnika</p>	<p>A. <input type="checkbox"/> B. <input type="checkbox"/> C. <input type="checkbox"/></p>
<p>15. Koji građani u Republici Hrvatskoj prema Ustavu Republike Hrvatske imaju aktivno i pasivno biračko pravo na izborima za Europski parlament?</p> <p>A. svi građani Europske unije B. svi državljani Republike Hrvatske C. svi stanovnici Republike Hrvatske</p>	<p>A. <input type="checkbox"/> B. <input type="checkbox"/> C. <input type="checkbox"/></p>
<p>16. Koje državno tijelo ima ovlasti prema Ustavu Republike Hrvatske donositi uredbe o radu Državnoga inspektorata?</p> <p>A. Hrvatski sabor B. Vlada Republike Hrvatske C. Predsjednik Republike Hrvatske</p>	<p>A. <input type="checkbox"/> B. <input type="checkbox"/> C. <input type="checkbox"/></p>

PIG D-S044



01

Politika i gospodarstvo


<p>17. Što osigurava sljedeća odredba Ustava Republike Hrvatske: <i>Svatko je nedužan i nitko ga ne može smatrati krivim za kazneno djelo dok mu se pravomoćno sudskom presudom ne utvrdi krivnja?</i></p> <p>A. pretpostavku nevinosti B. jednakost pred zakonom C. zabranu retroaktivne primjene zakona</p>	<p>A. <input type="checkbox"/></p> <p>B. <input type="checkbox"/></p> <p>C. <input type="checkbox"/></p>
<p>18. Koji je od navedenih dokumenata bio prisiljen potpisati engleski kralj Ivan Bez Zemlje nakon ustanka plemstva ograničivši time svoju moć, a dajući povlastice podanicima?</p> <p>A. <i>Habeas Corpus Act</i> B. <i>Magna Carta Libertatum</i> C. <i>Petition of Rights</i></p>	<p>A. <input type="checkbox"/></p> <p>B. <input type="checkbox"/></p> <p>C. <input type="checkbox"/></p>
<p>19. Na koje se temeljno ekonomsko pitanje daje odgovor kada se raspodjela društvenoga proizvoda obavlja primjenom tržišnih mehanizama i mjera ekonomske politike države?</p> <p>A. <i>Što proizvoditi?</i> B. <i>Kako proizvoditi?</i> C. <i>Za koga proizvoditi?</i></p>	<p>A. <input type="checkbox"/></p> <p>B. <input type="checkbox"/></p> <p>C. <input type="checkbox"/></p>
<p>20. Koji od navedenih ekonomskih problema proučava mikroekonomija?</p> <p>A. kako povećati stopu rasta nacionalnoga proizvoda B. kako potrošači raspoređuju ograničene dohotke na tržištu dobara i usluga C. kako smanjiti porast godišnje stope inflacije mjerene potrošačkim cijenama</p>	<p>A. <input type="checkbox"/></p> <p>B. <input type="checkbox"/></p> <p>C. <input type="checkbox"/></p>

PIG D-S044



01

Politika i gospodarstvo

<p>21. Tvrтка je sredstvima iz EU fondova proširila tehničke proizvodne kapacitete za 25 %, što je rezultiralo povećanjem broja gotovih proizvoda od 38 % na godišnjoj razini. Kojim se pokazateljem uspješnosti može izraziti postignuti rezultat poslovanja u opisanome primjeru?</p> <p>A. likvidnost B. rentabilnost C. proizvodnost</p>	<p>A. <input type="checkbox"/> B. <input type="checkbox"/> C. <input type="checkbox"/></p>
<p>22. Kako se naziva vrsta tržišta na kojemu se razmjena dobara i usluga odvija između pet država prema određenim zakonitostima i pravilima?</p> <p>A. nacionalno B. međunarodno C. svjetsko</p>	<p>A. <input type="checkbox"/> B. <input type="checkbox"/> C. <input type="checkbox"/></p>
<p>23. Proizvođač sladoleda odlučio je povećati svoju proizvodnju tijekom ljetnih mjeseci te najveći dio proizvoda preusmjeriti u hrvatska ljetovališta. Koja je tržišna funkcija opisana u primjeru?</p> <p>A. selektivna B. alokacijska C. distribucijska</p>	<p>A. <input type="checkbox"/> B. <input type="checkbox"/> C. <input type="checkbox"/></p>
<p>24. Kako se naziva tip gospodarskoga sustava u kojemu su resursi isključivo u privatnome vlasništvu, država ima ulogu zaštite vlasništva pojedinaca, a potražnja za proizvodom diktira njegovu ponudu?</p> <p>A. komandni B. mješoviti C. tržišni</p>	<p>A. <input type="checkbox"/> B. <input type="checkbox"/> C. <input type="checkbox"/></p>
<p>PIG D-S044</p>	 <p>01</p>

Politika i gospodarstvo

<p>25. Koji je ekonomski teoretičar isticao da država svojim mjerama mora poticati potrošnju te na taj način utjecati na investicije i gospodarski rast?</p> <p>A. John Maynard Keynes B. Joseph Schumpeter C. Thorstein Veblen</p>	<p>A. <input type="checkbox"/> B. <input type="checkbox"/> C. <input type="checkbox"/></p>
<p>26. Poslovna organizacija A iznajmila je 300 igraćih konzola poslovnoj organizaciji B. Kako se naziva priljev novca koji je poslovna organizacija A ostvarila iznajmljivanjem igraćih konzola?</p> <p>A. prihod B. dobitak C. dohodak</p>	<p>A. <input type="checkbox"/> B. <input type="checkbox"/> C. <input type="checkbox"/></p>
<p>27. Vlasnik konditorskoga poduzeća zaposlio je osobu čiji je zadatak voditi poduzeće, upravljati resursima poduzeća te povećati tržišni udio za 1 %. Koju ulogu ima osoba koja obavlja opisane radne zadatke?</p> <p>A. radnika B. menadžera C. poduzetnika</p>	<p>A. <input type="checkbox"/> B. <input type="checkbox"/> C. <input type="checkbox"/></p>
<p>28. Poduzetnik je osmislio i razvio ideju za novi posao, ali svjestan je da je izbor pravoga trenutka za novi posao ključan za uspjeh. Kako se naziva osobina koju posjeduje poduzetnik iz opisanoga primjera?</p> <p>A. samouvjerenost B. postavljanje ciljeva C. razumno prihvaćanje rizika</p>	<p>A. <input type="checkbox"/> B. <input type="checkbox"/> C. <input type="checkbox"/></p>
<p>29. Kozmetičarski obrt angažira poznatu osobu da putem društvenih mreža predstavi kupcima željeni tretman iscrtavanja usana mikropigmentacijom. Koje razdoblje poslovanja obilježava takva poslovna filozofija?</p> <p>A. prodajno B. proizvodno C. marketinško</p>	<p>A. <input type="checkbox"/> B. <input type="checkbox"/> C. <input type="checkbox"/></p>

PIG D-S044



01

Politika i gospodarstvo

30. Država je ostvarila bruto nacionalni dohodak po stanovniku od 52 000 američkih dolara, što je generiralo rast osobne i zajedničke potrošnje. Kako se naziva dosegnuta razina životnoga standarda?

- A. blagostanje
- B. razvijenost
- C. bogatstvo

- A.
- B.
- C.

PIG D-S044



01

Politika i gospodarstvo

II. Zadatci kratkoga odgovora

U sljedećim zadacima odgovorite kratkim odgovorom (riječu ili jednostavnom rečenicom).
Odgovore upišite **samo** na predviđeno mjesto u ispitnoj knjižici.
Ne popunjavajte prostor za bodovanje.


<p>31. Ujedinjeni narodi organizirali su pregovore dviju zaraćenih država radi smirivanja sukoba. Što je u navedenom primjeru cilj političkoga djelovanja UN-a?</p> <p>_____</p>	<p>0 <input type="checkbox"/></p> <p>1 <input type="checkbox"/></p> <p>bod</p>
<p>32. Koji tip političke kulture karakterizira osviještenost građana o političkim procesima, kritički stav prema vlasti te spremnost na sudjelovanje u politici?</p> <p>_____</p>	<p>0 <input type="checkbox"/></p> <p>1 <input type="checkbox"/></p> <p>bod</p>
<p>33. Što je Republika Hrvatska potvrdila donošenjem Ustava Republike Hrvatske 22. prosinca 1990. godine?</p> <p>_____</p>	<p>0 <input type="checkbox"/></p> <p>1 <input type="checkbox"/></p> <p>bod</p>
<p>34. U kojemu se izbornom sustavu primjenjuje D'Hondtova metoda izračuna zastupničkih mandata?</p> <p>_____</p>	<p>0 <input type="checkbox"/></p> <p>1 <input type="checkbox"/></p> <p>bod</p>

PIG D-S044




02


Politika i gospodarstvo

<p>35. Koji je temeljni i najviši pravni akt države kojim se uspostavlja politički poredak i određuje odnos između triju dijela vlasti?</p> <p>_____</p>	<p>0 <input type="checkbox"/></p> <p>1 <input type="checkbox"/></p> <p>bod</p>
<p>36. U kojemu je političkom sustavu vlada odgovorna i predsjedniku republike i parlamentu?</p> <p>_____</p>	<p>0 <input type="checkbox"/></p> <p>1 <input type="checkbox"/></p> <p>bod</p>
<p>37. U kojemu političkom poretku policija ima ovlasti u svako doba dana ulaziti u privatne domove građana i kontrolirati korištenje zabranjenih medijskih sadržaja koji promiču zaštitu ljudskih prava?</p> <p>_____</p>	<p>0 <input type="checkbox"/></p> <p>1 <input type="checkbox"/></p> <p>bod</p>
<p>38. U kojemu su povijesnom tipu političkoga poretka naizmjenice vladali građani ždrijebom izabrani u javne službe, a Narodna je skupština donosila odluke o svim pitanjima od općega interesa?</p> <p>_____</p>	<p>0 <input type="checkbox"/></p> <p>1 <input type="checkbox"/></p> <p>bod</p>
<p>39. Kako se naziva skupina parlamentarnih zastupnika čija je funkcija nadzor rada vlade i oblikovanje političkih interesa onih građana koje vladajući ne zastupaju?</p> <p>_____</p>	<p>0 <input type="checkbox"/></p> <p>1 <input type="checkbox"/></p> <p>bod</p>
<p>PIG D-S044</p>	 <p>02</p>


Politika i gospodarstvo

<p>40. Roditelji djece s invaliditetom nisu dobili zaštitu Vijeća za elektroničke medije zbog ponižavajućega i uznemirujućega izvještavanja u medijima. Kojoj se instituciji za zaštitu prava i dostojanstva djece prema Ustavu Republike Hrvatske mogu obratiti roditelji iz opisanoga primjera?</p> <p>_____</p>	<p>0 <input type="checkbox"/></p> <p>1 <input type="checkbox"/></p> <p>bod</p>
<p>41. Kako se naziva najviše državno tijelo Republike Hrvatske koje jamči poštovanje i primjenu Ustava Republike Hrvatske, a prema istome ne pripada ni zakonodavnoj, ni izvršnoj, ni sudbenoj grani državne vlasti?</p> <p>_____</p>	<p>0 <input type="checkbox"/></p> <p>1 <input type="checkbox"/></p> <p>bod</p>
<p>42. Koje jedinice samouprave prema Ustavu Republike Hrvatske obavljaju poslove koji se odnose na prijevoz srednjoškolaca s otoka u školu na kopnu?</p> <p>_____</p>	<p>0 <input type="checkbox"/></p> <p>1 <input type="checkbox"/></p> <p>bod</p>
<p>43. Kojom se većinom prema Ustavu Republike Hrvatske bira predsjednik Republike Hrvatske?</p> <p>_____</p>	<p>0 <input type="checkbox"/></p> <p>1 <input type="checkbox"/></p> <p>bod</p>
<p>44. Na prijedlog Vlade Republike Hrvatske Zakon o akvakulturi ulazi u proceduru izmjena i dopuna. Kojom većinom prema Ustavu Republike Hrvatske Hrvatski sabor izglasava spomenuti zakon?</p> <p>_____</p>	<p>0 <input type="checkbox"/></p> <p>1 <input type="checkbox"/></p> <p>bod</p>
<p>PIG D-S044</p>	 <p>02</p>


Politika i gospodarstvo

<p>45. Do kojih granica Republika Hrvatska prema Ustavu Republike Hrvatske ostvaruje suverena prava u morskim područjima i u podmorju Jadranskoga mora izvan državnoga područja?</p> <p>_____</p>	<p>0 <input type="checkbox"/></p> <p>1 <input type="checkbox"/></p> <p>bod</p>
<p>46. Tko uz Predsjednika Republike Hrvatske prema Ustavu Republike Hrvatske supotpisuje rješenje o imenovanju predsjednika Vlade Republike Hrvatske?</p> <p>_____</p>	<p>0 <input type="checkbox"/></p> <p>1 <input type="checkbox"/></p> <p>bod</p>
<p>47. Kojemu sudu prema Ustavu Republike Hrvatske građanin može podnijeti priziv protiv odluke općinskoga suda?</p> <p>_____</p>	<p>0 <input type="checkbox"/></p> <p>1 <input type="checkbox"/></p> <p>bod</p>
<p>48. Koje se pravo Ustavom Republike Hrvatske jamči građanima ako nemaju sredstava za plaćanje odvjetnika u sudskome procesu?</p> <p>_____</p>	<p>0 <input type="checkbox"/></p> <p>1 <input type="checkbox"/></p> <p>bod</p>
<p>49. Koje područje ekonomske znanosti proučava gospodarski rast i stabilnost države?</p> <p>_____</p>	<p>0 <input type="checkbox"/></p> <p>1 <input type="checkbox"/></p> <p>bod</p>
<p>PIG D-S044</p>	 <p>02</p>

Politika i gospodarstvo

<p>50. Poduzetnik koji ima dobru ideju, ali nema dovoljno kapitala želi pokrenuti posao i osnovati trgovačko društvo za samo 10 kuna temeljnoga kapitala. Kako se naziva trgovačko društvo kapitala koje može osnovati poduzetnik iz opisanoga primjera?</p> <p>_____</p>	<p>0 <input type="checkbox"/></p> <p>1 <input type="checkbox"/></p> <p>bod</p>
<p>51. Proizvođač je na tržište plasirao manji broj proizvoda po nižoj cijeni kako bi privukao kupce. Zanimanje je kupaca raslo pa je ponuđač odlučio proizvesti više proizvoda i povisiti im cijenu. Koji zakon tržišta regulira situaciju iz opisanoga primjera?</p> <p>_____</p>	<p>0 <input type="checkbox"/></p> <p>1 <input type="checkbox"/></p> <p>bod</p>
<p>52. Veliki proizvođači jabuka smanjili su ponudu jabuka na svjetskome tržištu, dok je potražnja ostala nepromijenjena. Što će se dogoditi s cijenom jabuka?</p> <p>_____</p>	<p>0 <input type="checkbox"/></p> <p>1 <input type="checkbox"/></p> <p>bod</p>
<p>53. Država je donijela odluku da se male pošiljke iz inozemstva oporezuju porezom na dodanu vrijednost. Kako se naziva takva vrsta oporezivanja?</p> <p>_____</p>	<p>0 <input type="checkbox"/></p> <p>1 <input type="checkbox"/></p> <p>bod</p>
<p>54. U državi se povećala proizvodnja zbog čega se povećala i zaposlenost. Istodobno je došlo do rasta ukupnoga dohotka. Kako se naziva ostvareni makroekonomski cilj iz opisanoga primjera?</p> <p>_____</p>	<p>0 <input type="checkbox"/></p> <p>1 <input type="checkbox"/></p> <p>bod</p>
<p>PIG D-S044</p>	 <p>02</p>

Politika i gospodarstvo

<p>55. Građanin je oročio štednju u banci te je na račun položio iznos od 50 000 kuna. Uz godišnju fiksnu kamatnu stopu od 0,8 % po isteku ugovora uvećat će mu se vrijednost oročene štednje za 400 kuna. Kako se naziva funkcija novca iz opisanoga primjera?</p> <p>_____</p>	<p>0 <input type="checkbox"/></p> <p>1 <input type="checkbox"/></p> <p>bod</p>
<p>56. Kako se naziva situacija na financijskome tržištu u kojoj raste vrijednost eura u odnosu na američki dolar te je potrebno izdvojiti manje eura za jedan američki dolar?</p> <p>_____</p>	<p>0 <input type="checkbox"/></p> <p>1 <input type="checkbox"/></p> <p>bod</p>
<p>57. Na burzi vrijednosnih papira samostalni je trgovac u svoje ime i za svoj račun ostvario zaradu od 5000 kuna tako što je kupio dionice u vrijednosti 10 000 kuna i prodao ih za 15 000 kuna. Kako se naziva burzovni posrednik iz opisanoga primjera?</p> <p>_____</p>	<p>0 <input type="checkbox"/></p> <p>1 <input type="checkbox"/></p> <p>bod</p>
<p>58. Zbog nižih kamatnih stopa na stambene kredite i veće potražnje za nekretninama rasla je cijena nekretnina. Posljedica je rasta cijena smanjenje potražnje za nekretninama i pad gospodarske aktivnosti u ovoj grani gospodarstva. Kako se naziva gospodarski ciklus koji je nastupio nakon rasta cijena nekretnina iz opisanoga primjera?</p> <p>_____</p>	<p>0 <input type="checkbox"/></p> <p>1 <input type="checkbox"/></p> <p>bod</p>
<p>59. Proizvođač povrća odlučio je prodavati svoje proizvode putem interneta tijekom epidemiološke krize te je ostvario veću zaradu od svojih konkurenata. Kako se naziva element marketinškoga spleta iz opisanoga primjera?</p> <p>_____</p>	<p>0 <input type="checkbox"/></p> <p>1 <input type="checkbox"/></p> <p>bod</p>
<p>PIG D-S044</p>	 <p>02</p>

Politika i gospodarstvo

60. U Republici Hrvatskoj u jednoj je godini ukupno proizvedeno dobara u vrijednosti 54 milijarde američkih dolara. Kako se naziva opisani pokazatelj razvijenosti Republike Hrvatske?

0

1

bod

PIG D-S044



02